



Fenêtres sur les patrimoines

Apprenti-explorateur à Cabrières

LES BALADES LUDIQUES ET FAMILIALES

Office de tourisme du Clermontais, Place Jean-Jaurès, 34800 Clermont l'Hérault
+ 33 (0)4 67 96 23 86 - tourisme@cc-clermontais.fr
www.destination-salagou.fr



Cabrières

Au pied de l'imposant Pic de Vissou, Cabrières s'est bâti au bord de la rivière Boyne au XVII^e siècle, bien qu'un village plus ancien ait existé à quelques kilomètres de là, à proximité d'un château fort aujourd'hui disparu. Entouré de vignes et de bois, Cabrières possède les plus anciennes mines de cuivre d'Europe et des anciens moulins à blé, témoins du passé agricole de la commune. Aujourd'hui, le village vit principalement de la viticulture avec des vins renommés depuis Louis XIV.

Commencer par se rendre devant la cave coopérative ① Si elle est fermée, la réponse à cet indice est donnée sous la carte de cette page.

En sortant de la cave, partir à gauche et tourner à droite sur le pont. Rester prudent sur le bord de route pendant environ 300 mètres. Après le panneau de sortie de ville, tourner à gauche sur la piste DFCl. Passer le premier panneau sur l'Age de bronze et marquer une pause devant le second panneau sur l'exploitation des minerais de cuivre ②

Continuer sur la piste jusqu'au croisement et tourner complètement à gauche à la borne verte. Passer la barrière et continuer sur votre gauche. Passer devant un panneau et continuer jusqu'à la vue sur le village. Ne pas rater le panneau panoramique légèrement à droite du chemin ③

Reprendre la piste, continuer jusqu'au croisement et repasser la barrière. Tourner à gauche et observer le panneau panoramique ④

À peine plus loin, lire celui sur la capitelle ⑤

Après cette capitelle, tourner sur la gauche et prendre le petit sentier qui descend. Continuer jusqu'aux vignes où un panneau d'information (n° 16) permet d'en apprendre un peu plus ⑥

Soyez vigilants avec vos enfants notamment sur les zones non piétonnes. Le parcours s'effectue sous votre entière responsabilité. La société Randoland et l'Office de tourisme du Clermontais déclinent toute responsabilité en cas d'accident.

Reprendre la descente jusqu'à la route. Traverser la rivière et prendre tout de suite à droite le chemin des Jardins (ce chemin est privé, merci de respecter les lieux). Passer la barrière et au bout, continuer sur la gauche pour arriver au croisement des rues. Traverser sur le passage piéton pour se rendre place de la République et continuer tout droit dans la petite rue du Mas de Silhol qui monte un peu. Au bout de celle-ci, s'engager à gauche dans la rue de la Place jusqu'à la place de la Liberté. Observer la fontaine et la croix ⑦

Tourner à gauche dans la rue de l'Église pour se rendre devant cette dernière ⑧

Continuer à descendre la rue et tourner en face de la fontaine dans la rue du Mas de Gausse (première à droite). Passer sous le porche et continuer, toujours dans cette rue, en longeant le ruisseau puis le mur. Au stop, tourner à droite. Passer devant la vigne école et poursuivre tout droit pour rejoindre le point de départ.

Fin de la balade.



Niveau
MOYEN

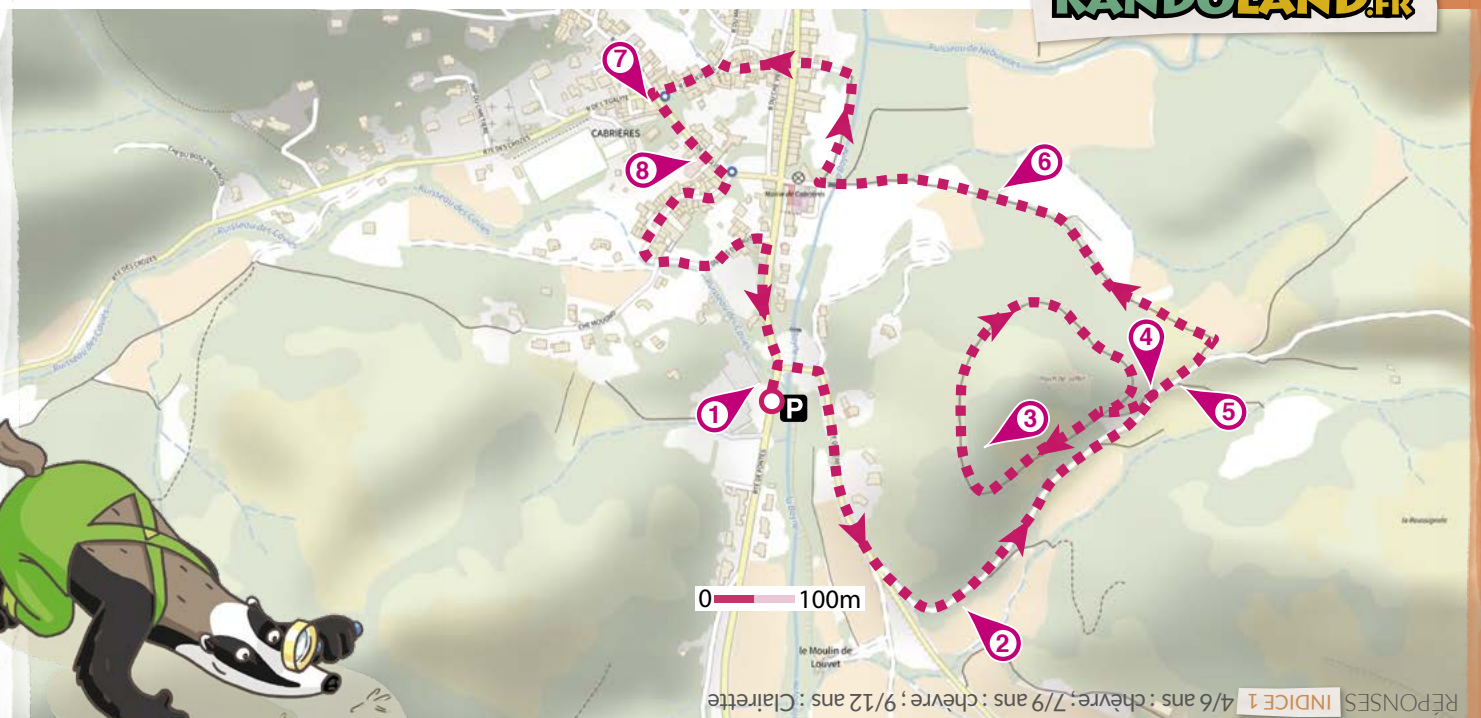
Durée
2H

Parcours
3,4 KM


Départ : Parking des randonneurs
en face la cave coopérative
GPS : 43.575342N / 3.363756E

Non accessible en poussette.
Prévoir un stylo, de l'eau,
un chapeau et des chaussures
de marche.

RANDOLAND.FR



2020 © Randoland. Illustrations : Armelle Drouin - AdobeStock - Freepik.com - Pexels



Cabrières



L'inspecteur Rando part en balade. Mais par où va-t-il passer ?

Pour découvrir le chemin emprunté, réponds aux questions de la page suivante. Chaque réponse t'indiquera l'étape suivante de l'inspecteur Rando dans le labyrinthe. Attention, il ne doit jamais revenir sur ses pas et prend toujours le chemin le plus court !
 Chaque fois qu'il trouvera une châtaigne sur sa route, entoure, dans l'ordre, une châtaigne de la frise. En fin de parcours, note dans la case réponse le nombre de châtaignes trouvées.


1


2


3


4


5


6


7


8


9


10

TA RÉPONSE

Tu pourras vérifier si tu as la bonne réponse à l'Office de tourisme du Clermontais ou sur le site www.randoland.fr

Code énigme : **3404501P**

1. La cave coopérative


Cherche, sur un mur de ce bâtiment, la plaque gravée représentant un animal debout en train de manger du raisin. De quel animal s'agit-il ?

Tu vas découvrir la première étape de l'inspecteur Rando.



2. Le panneau sur les minerais de cuivre

Observe le panneau intitulé « 5000 ans d'exploitation des minerais de cuivre ». Quel outil ressemble à un de ceux qui y sont dessinés ?



3. Le panneau sur le village

Demande à « un grand » de te dire le nom du pic inscrit à l'extrémité droite de cette table d'orientation. Quel son entends-tu dans son nom ?




4. Le panneau sur le panorama

Observe le schéma en bas à gauche de ce panneau. Demande à « un grand » de te montrer quelle couleur correspond au schiste du niveau à lyonnaise ?




5. Le panneau sur la capitelle

Quelle est la forme de cette capitelle ?




6. Le panneau sur les vignes

Sur ce panneau, plusieurs fleurs sont dessinées. Quelle photo ci-dessous correspond à l'une d'elles ?



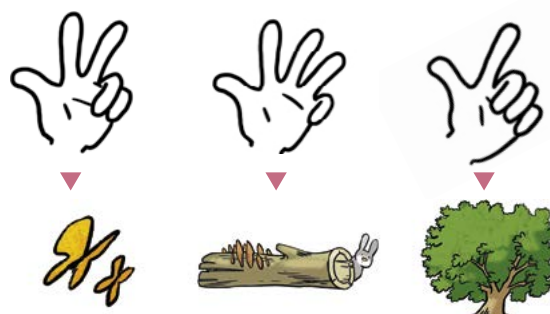
7. La fontaine

Quel schéma correspond à cette fontaine vue du dessus ?



8. L'église

Combien comptes-tu d'horloges sur le clocher ?





Cabrières

Alexis se promène dans les environs de Cabrières, lorsqu'il tombe sur une grotte cachée par des lierres. Armé de sa lampe torche, le jeune garçon commence à explorer les galeries rocheuses. Au bout d'une vingtaine de minutes, il découvre un grand lac souterrain aux magnifiques couleurs : orange, vert et bleu. Captivé par la vue, Alexis parcourt les bords du lac et voit d'étranges pierres en spirale...

Il décide donc de ramener ces roches inhabituelles chez lui. Une fois de retour dans sa maison, Alexis contacte l'inspecteur Rando pour qu'il l'aide à les identifier. « Il s'agit de fossiles de la même famille que les ammonites, lui dit ce dernier, mais je ne me souviens plus du nom exact ! » Sauras-tu les aider à le retrouver ?

SUIS LA PISTE !

À chaque point indice, lis bien les indications de la page suivante et reporte tes réponses sur la grille de bas de page. Tu disposes du plan ci-dessous. À l'emplacement des pastilles numérotées, lis les indications qui te permettront de résoudre l'énigme principale.

Tu pourras vérifier si tu as la bonne réponse à l'**Office de tourisme du Clermontais** ou sur le site www.randoland.fr avec le code énigme.



Pour toutes les activités de cette fiche, reporte dans la grille de bas de page les réponses trouvées en face des chiffres correspondants.

1. La cave coopérative

Trois enfants ont cru reconnaître l'animal qui grignote le raisin sur la fresque. Qui a choisi la bonne image ?



ENZO



THÉO



GAÏA

> Note le prénom de celui qui a bien choisi.

2. Le panneau sur les minerais de cuivre

Quel objet est associé par deux fois au pic ?

> Inscris ta réponse dans la grille.

3. Le panneau sur le village

Compte sur le plan les grands mas qui existaient dans le village au XVIII^e siècle ! Dans quelle expression retrouves-tu ce nombre ?

DÉBORAH : Les ... doigts de la main.

MATHIAS : Les ... jours de la semaine.

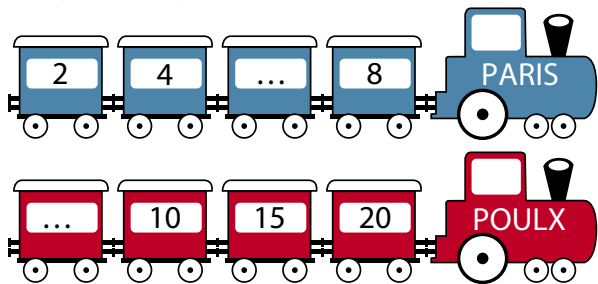
> Note, dans la grille, le prénom de celui qui a bon.

4. Le panneau sur le panorama

Quelle est l'altitude du plus petit mont du village ? Additionne tous les chiffres qui la composent.

EXEMPLE $480 = 4 + 8 + 0 = 12$


Dans quel train peux-tu noter ton résultat ?



> Reporte, dans la grille, la ville notée sur le bon train.

5. Le panneau sur la capitelle

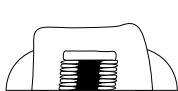
Les capitelles peuvent avoir différentes formes. Quel dessin correspond à celle-ci ?



7



14



20

Remplace le nombre noté sous le bon dessin par la lettre de l'alphabet qui lui correspond.

EXEMPLE 1 > A ; 2 > B ; 3 > C

> Note la lettre découverte dans la grille.


6. Le panneau sur les vignes

Les plantes qui craignent l'excès de calcium dans le sol sont « _____ ».


> Inscris le mot manquant dans la grille.

7. La fontaine

Des amis ont fait un schéma de la fontaine vue du dessus. Voici les dessins :



FRANCK



LOUISE



MARION

> Note, dans la grille, le prénom de celle qui a fait un dessin ressemblant.

8. L'église

Quel prénom porte cette église ? Range les lettres du mot découvert dans l'ordre alphabétique.

EXEMPLE INDICE = CDEIIN

> Écris ta nouvelle réponse dans la grille.




GRILLE RÉPONSE

1. >									
2. >									
3. >									
4. >									
5. >									
6. >									
7. >									
8. >									

Remets en ordre les caractères des cases colorées pour retrouver le nom du fossile découvert par Alexis.

TA RÉPONSE



Code énigme : 3404501M

Cabrières

Au Moyen Âge, le village de Cabrières était gouverné par la famille du même nom. Parmi ces nobles seigneurs, il y avait une dame d'une grande beauté : la comtesse Deuterie de Cabrières. Abandonnée par son mari, elle dut défendre seule le village lorsque l'armée des Francs commença à l'assiéger... Mais au lieu de prendre les armes, elle décida d'utiliser ses talents de diplomate pour épargner une guerre à ses gens. Et cela a plutôt bien fonctionné : le seigneur des Francs fut séduit par son intelligence et épousa Deuterie.

Aide l'inspecteur Rando à trouver le nom de ce seigneur des Francs !

LISTE DES ROIS DES FRANCS

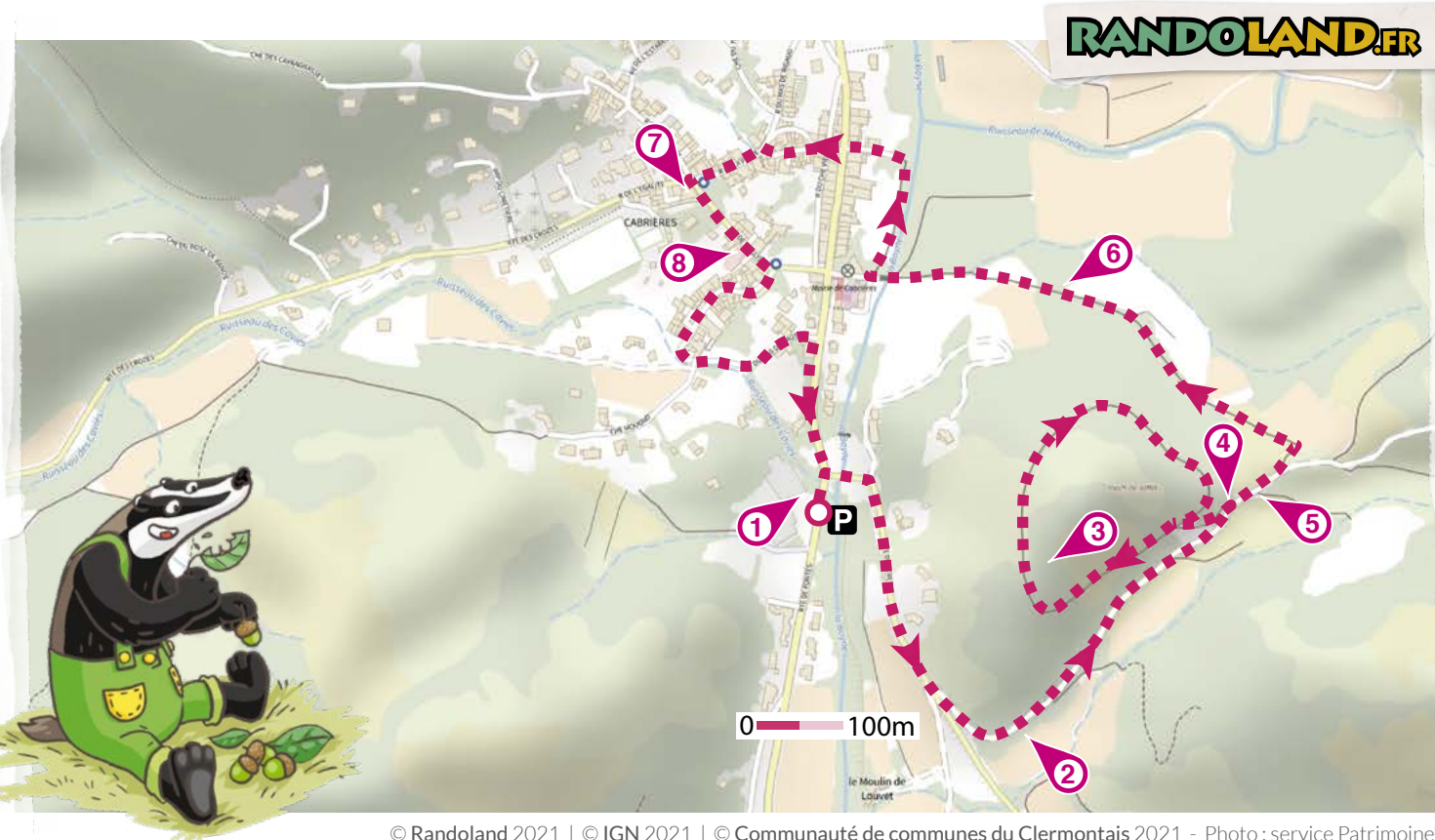
- > Clovis 1^{er} (481-511)
- > Clodomir (511-524)
- > Théodebert 1^{er} (534-548)
- > Clotaire II (613-629)
- > Dagobert 1^{er} (632-639)
- > Thierry III (687-691)
- > Chilpéric IV (695-711)
- > Chilpéric II (719-721)
- > Childéric III (743-751)



SUIS LA PISTE !

À chaque point indice, lis bien les indications de la page suivante et reporte tes réponses sur la grille de bas de page. Tu disposes du plan ci-dessous. À l'emplacement des pastilles numérotées, lis les indications qui te permettront de résoudre l'énigme principale.

Tu pourras vérifier si tu as la bonne réponse à l'Office de tourisme ou sur le site www.randoland.fr avec le code énigme.



Lors du passage devant chacun des indices lis attentivement les indications fournies. Elles te permettront de résoudre l'énigme posée au verso de cette page.

1. La cave coopérative

Aide-toi du panneau « Terroirs des schistes à Cabrières » qui se situe à l'entrée du caveau. Quel cépage se cache derrière la définition « lumineuse, toute en rondeurs » ?

> Les cinq premières lettres du mot découvert sont toutes présentes dans le prénom d'un des rois. Tu peux le rayer de la liste, ce n'est pas le bon.

2. Le panneau sur les minerais de cuivre

Quel numéro porte la mine qui a produit 30 000 tonnes de minerai au XX^e siècle ? Choisis l'expression dans laquelle tu retrouves ce nombre !

ELVIS : Avoir les ... pieds sur terre.

JERRY : Les ... petits cochons

AMIR : Les ... doigts de la main

> Le prénom d'un des rois rime avec celui qui a proposé la bonne expression. Ce n'est pas celui recherché, supprime-le de la liste !

3. Le panneau sur le village

Aide-toi des paragraphes « Au IX^e siècle » et « Au XVI^e siècle » pour trouver la réponse. Combien d'années se sont écoulées entre la première destruction et la destruction définitive du château ?

TON CALCUL



Note ta réponse dans les cases ci-dessous :



> L'année de début de règne d'un des hommes se termine par le chiffre de la case bleutée. Élimine le de la liste !

4. Le panneau sur le panorama

Intéresse-toi au mont visible entre le village et l'Estabel. Fais la somme de tous les chiffres de son altitude.

EXEMPLE 221 = 2 + 2 + 1 = 5

> La somme des chiffres de l'année de fin de règne d'un des hommes est identique à ton résultat. Ce n'est pas lui que tu cherches.

5. Le panneau sur la capitelle

Il existe des capitelles de différentes formes. Celle-ci est une cabane à voûte :

Sachant qu'une consonne vaut +4 et une voyelle - 4, calcule la valeur du mot manquant.

> L'homme désigné par le chiffre romain identique à ton résultat est à rayer de la liste ! Ce n'est pas celui que tu cherches.

6. Le panneau sur les vignes


Complète ce texte à trous à l'aide des lettres suivantes ACCEEÉFGIILNPSVUUX

Les plantes qui craignent l'excès de calcium dans le sol sont _____, comme le calicotôme


> La lettre en trop est présente dans le prénom d'un des rois. Élimine-le de la liste !

7. La fontaine


Quel dessin est identique à cette fontaine ?



14



20



8

> L'un des hommes de la liste a régné autant d'années que le nombre noté sous le bon dessin. Ce n'est pas lui que tu cherches alors raye-le !

8. L'église

Repère l'année de construction de l'église actuelle sur le panneau.

> Supprime de la liste l'homme dont le règne a débuté 1150 ans plus tôt.



Tu devrais maintenant connaître l'identité de ce roi des Francs, époux de Deuterie.

TA RÉPONSE



Tu pourras vérifier si tu as la bonne réponse à l'Office de tourisme ou sur le site www.randoland.fr avec le code énigme.

Code énigme : 3404501G